

1 Pose et calcule.


127 + 235



345 + 96



264 + 8 + 75



Poser et effectuer une addition avec des nombres de 3 chiffres.

2 Calcule sans poser les opérations.

25 - 13 =

31 - 12 =



Retraire un nombre de 2 chiffres.

3 Complète.

16 + = 20

19 + = 25



Trouver le complément à un nombre.

4 Écris ces nombres du plus grand au plus petit.

207

300


216

455

..... > > >


Ordonner des nombres.

5 Entoure le carré.



Identifier un carré.

6 Entoure le plus grand des 2 nombres de chaque parchemin.



Comparer 2 nombres de 3 chiffres.

7 Dans quelle case est le chat ?

Le chat est dans la case (.....,

	1	2	3
A			
B			
C			

Repérer des cases d'un quadrillage.

8 Trace un triangle rectangle.

Un côté et le sommet de l'angle droit sont déjà tracés.



Tracer un triangle rectangle.