

# CE2 – GÉOMÉTRIE.

## LES POLYGONES.

- Lis la leçon puis fait les exercices pour t'entraîner.

### Leçon :

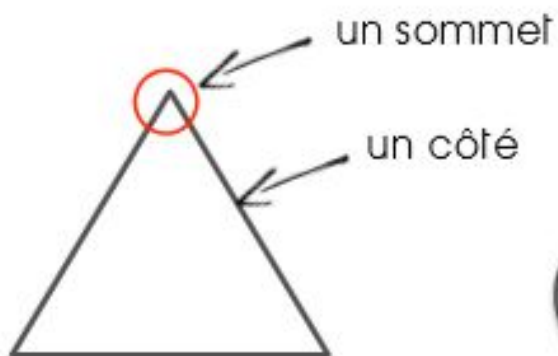


### Les polygones

Un polygone est une figure fermée que l'on peut tracer à la règle.



Un polygone est formé de sommets et de côtés.

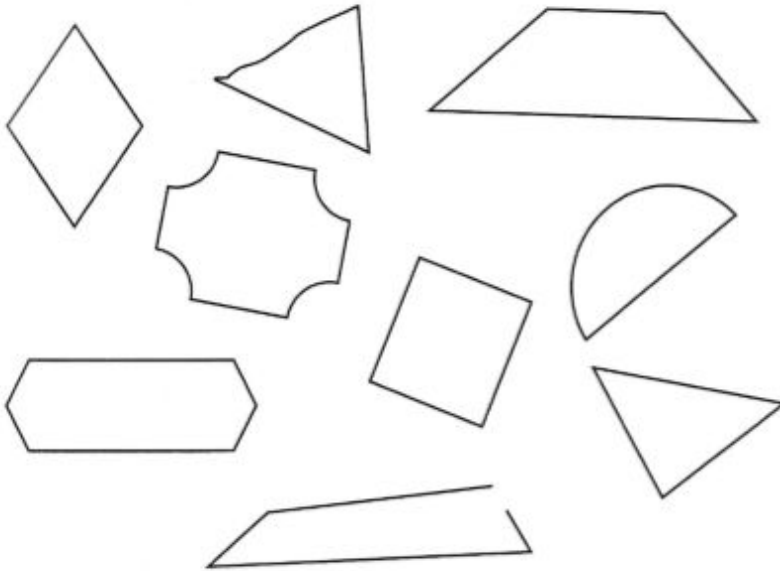


# Entraînement :

## 13 Les polygones

Date :

1 Colorie les polygones.



Ceci est un polygone.



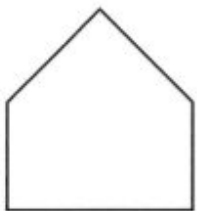
Ceci n'est pas un polygone.



Ceci n'est pas un polygone.



2 Écris le nombre de côtés et de sommets de chaque polygone.



..... côtés  
..... sommets



..... côtés  
..... sommets



..... côtés  
..... sommets




..... côtés  
..... sommets

3 Colorie chaque polygone et sa description d'une même couleur.

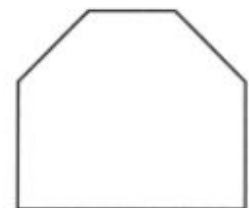
Je ne suis pas  
un polygone.



Je suis un polygone.  
J'ai 6 côtés et 6 sommets.



Je suis un polygone.  
J'ai 5 côtés et 5 sommets.



Je suis un polygone.  
J'ai 4 côtés et 4 sommets.